




تدريبات علاجية إثرائية نهاية الفصل الدراسي الثاني قسم العلوم 2023-2024 الوحدة السادسة: التصنيف



أسم الطالبة : _____
الصف الثالث : _____

1.1	ما الصف الذي ينتمي اليه الحيوان في الصورة؟	
		<div>A</div> الأسماك
		<div>B</div> الثدييات
		<div>C</div> الزواحف
		<div>D</div> البرمائيات

1.2	إلى أي صف ينتمي الحيوان في الصورة ؟	
		<div>A</div> الأسماك
		<div>B</div> الزواحف
		<div>C</div> الثدييات
		<div>D</div> البرمائيات

1.3	ما موطن غزال المها؟	
	<div>A</div> الجبال	
	<div>B</div> الغابات	
	<div>C</div> الأراضي الزراعية	
	<div>D</div> الصحاري الحارة	

1.4	أي الحيوانات التالية يغطي جسمه الفرو؟	
	<div>A</div> ثعبان	
	<div>B</div> أرنب	
	<div>C</div> حمامة	
	<div>D</div> سمكة السلمون	

1.5 أي الحيوانات التالية يتغذى على النباتات؟

الجمل	A	
الثعلب	B	
الصقر	C	
القرش	D	





1.6 أي حيوان مما يلي يتنفس بالخياشيم؟

الببغاء	A	
الفراشة	B	
سمكة الضاري	C	
الدب القطبي	D	

1.7 أي حيوان مما يلي من الفقاريات؟

الحبار	A	
الريبان	B	
الضفدع	C	
الدودة	D	

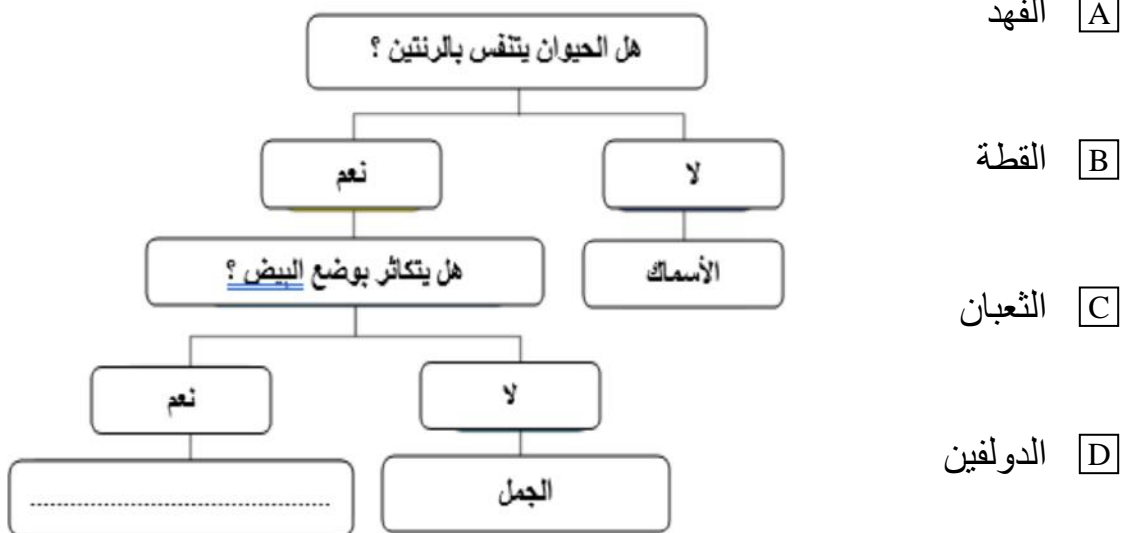
1.8 أي مما يلي ينمو؟

	A	
	B	
	C	
	D	

1.9	ما الخاصية المشتركة بين صفي الزواحف والأسماك؟
A	تتكاثر بالبيض
B	تتكاثر بالولادة
C	تتنفس بالرئتين
D	تتنفس بالخياشيم

1.10	أي الكائنات التالية صنف بشكل صحيح في مجموعة واحدة؟
A	الثعبان – التمساح – الحمامة
B	الأسد – الثعلب – الدب القطبي
C	الصقر – الضفدع – السمندل
D	سمك القرش – سمك الهامور – الضفدع

1.11 أي الكائنات الحية التالية مناسب لإكمال مفتاح التصنيف الذي أمامك؟



1.12	ما الحيوان الذي له ريش؟
A	حصان
B	ثعبان
C	سمكة
D	دجاجة

1.13	ما موطن ببغاء الماكو؟
	<input type="checkbox"/> A الصحاري الحارة
	<input type="checkbox"/> B البحار والمحيطات
	<input type="checkbox"/> C الغابات المطيرة الاستوائية
	<input type="checkbox"/> D الأراضي الزراعية والغابات

1.14	ما موطن سمكة السلمون؟
	<input type="checkbox"/> A الصحاري الحارة
	<input type="checkbox"/> B المحيط والأنهار
	<input type="checkbox"/> C البحار والمحيط
	<input type="checkbox"/> D الأراضي الزراعية والغابات

1.15	ما موطن نبات الزنباق المائية؟
	<input type="checkbox"/> A الصحاري الحارة
	<input type="checkbox"/> B المحيط والأنهار
	<input type="checkbox"/> C البحار والمحيط
	<input type="checkbox"/> D الأراضي الزراعية والغابات



أ- صنف الكائنات الحية في مجموعتين حسب طريقة التكاثر:
(الصقر – الارنب – غزال المها – سمكة الهامور – الثعلب – الثعبان)

تلد صغارها	تضع البيض

ب- صنف الكائنات الحية في مجموعتين حسب طريقة التنفس:
(سمك القرش – الأسد – الصقر – سمكة الهامور – سمكة السلمون – الثعبان)

يتنفس بالخياشيم	يتنفس بالرئتين

1- أذكر اثنان من خصائص الكائنات الحية؟

أ-

ب-

2- أكتب خاصيتين من خصائص البرمائيات؟

أ-

ب-

3- أذكر خاصيتين يمكن استخدامها لتصنيف الحيوانات في مجموعات؟

أ-

ب-

4- أذكر خاصيتين يمكن استخدامها لتصنيف النباتات في مجموعات؟

أ-

ب-

5- أذكر خاصيتين يمكن استخدامها لتصنيف الورود في مجموعات؟

أ-

ب-

6- سمي خاصيتين للصقر يمكن ملاحظتها؟

.....

7- أذكر مثال واحد على نبات له أشواك حادة؟

.....

8- أذكر مثال على الزواحف؟

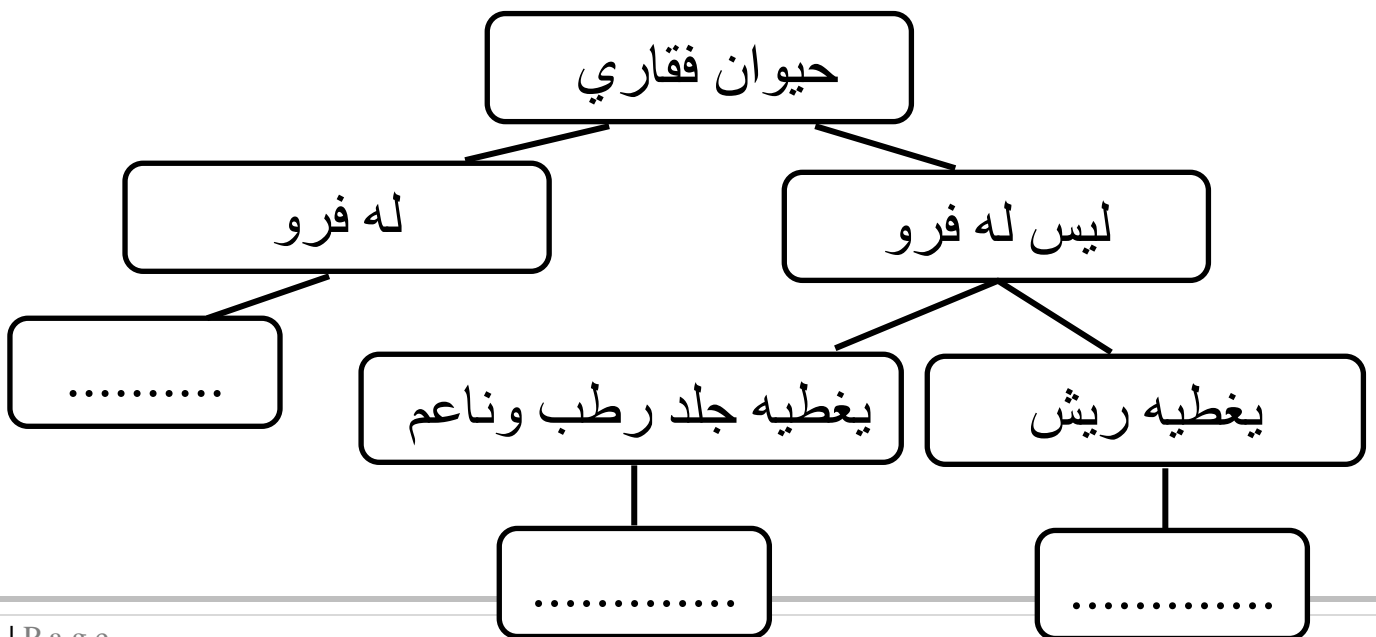
.....

9- أذكر مثال على البرمائيات؟

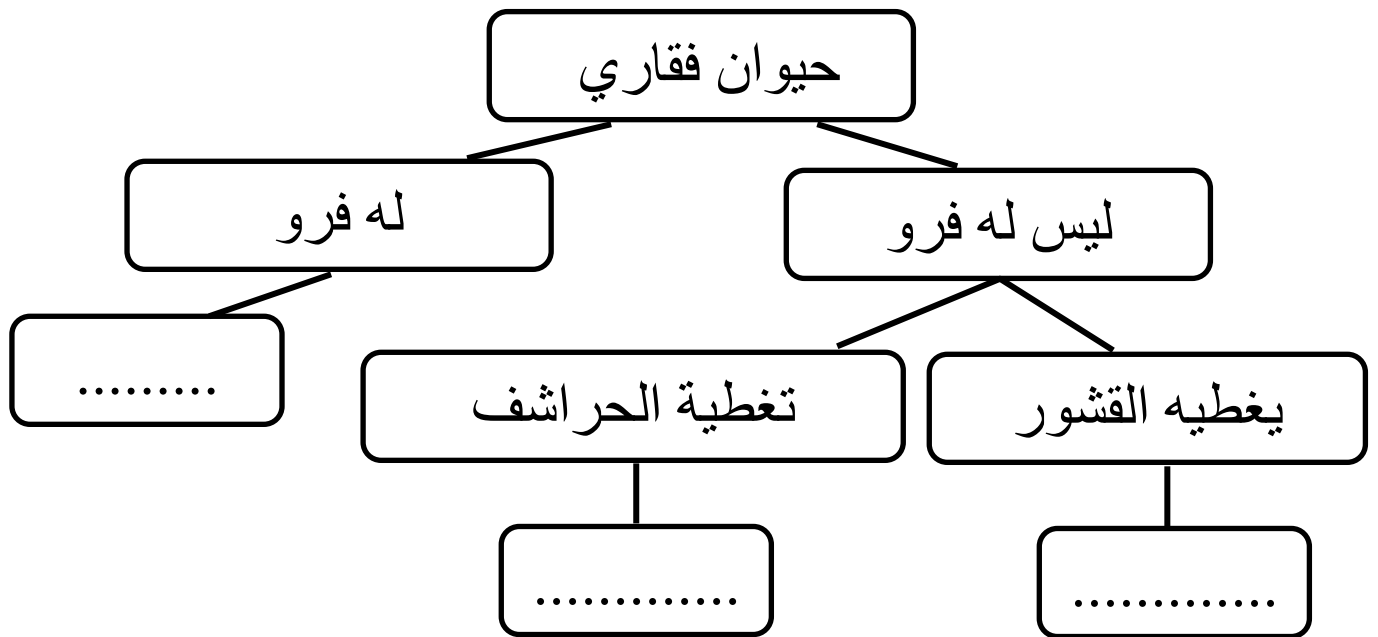
.....

السؤال الرابع

أ- أكمل مفتاح التصنيف التالي.



ب- أكمل مفتاح التصنيف التالي.



عليك عزيزتي الطالب دراسة تحقق مما تعلمت في نهاية الدروس بعد الانتهاء من الملزمة وذلك للتأكد من الاطلاع على المعلومات ككل

الصفحات المهمة في وحدة التصنيف:

ص 195 – 223 – 224 – 232 – 238 – 239 – 246 – 247 – 253 – 273
280 – 279 –